

grupa b

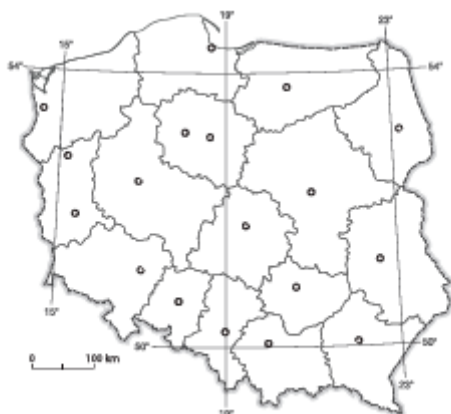
## Ludność i urbanizacja

### Test podsumowujący rozdział III

Imię i nazwisko

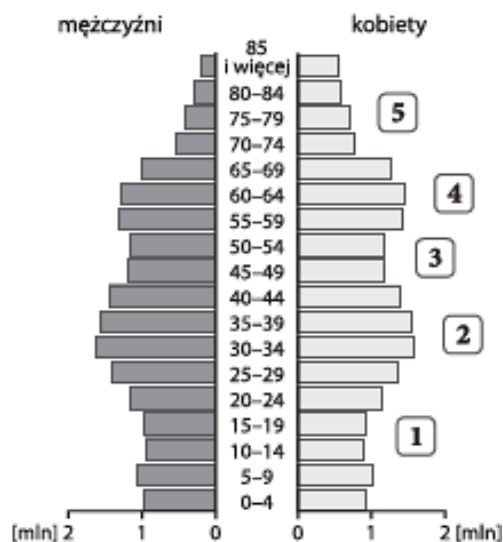
Klasa

1. Zapisz nazwy stolic województw wymienionych poniżej. Następnie zaznacz te województwa na mapie właściwymi literami. 0–2 p.



- A. Województwo zachodniopomorskie – \_\_\_\_\_  
B. Województwo małopolskie – \_\_\_\_\_

2. Na podstawie piramidy płci i wieku ludności Polski w 2015 roku wykonaj polecenia. 0–3 p.



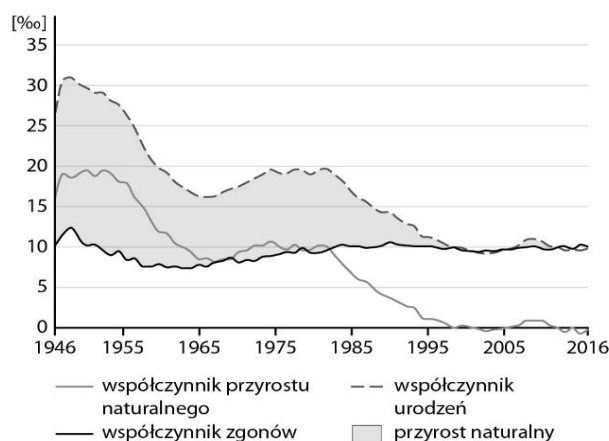
- a) Ustal, ilu chłopców znajduje się w przedziale wiekowym 15–19 lat.

- b) Wypisz cyfry, którymi zaznaczono na piramidzie niże demograficzne.

3. Zaznacz zdanie zawierające prawdziwe informacje. 0–2 p.

- A. W 2016 roku Polskę zamieszkiwało 38,4 mln osób.  
B. Według prognoz w 2050 roku Europa będzie jedynym kontynentem, na którym liczba ludności znacznie wzrośnie.  
C. Przyrost naturalny to różnica między liczbą urodzeń a liczbą zgonów.

4. Na podstawie wykresu przedstawiającego ruch naturalny ludności w Polsce w latach 1946–2016 wykonaj polecenia. 0–2 p.



- a) Uzupełnij tabelę odpowiednimi wartościami współczynników.

–5, 24, 9, 15, 10, –1

Rok	Współczynnik urodzeń [%]	Współczynnik zgonów [%]	Przyrost naturalny [%]
2015			

- b) Napisz, który czynnik w największym stopniu wpłynął na wartość przyrostu naturalnego w 1965 roku.

5. Podaj przedział wiekowy dla mężczyzn w wieku produkcyjnym. 0–1 p.

6. Wpisz w odpowiednie miejsca tabeli wymienione poniżej czynniki wpływające na rozmieszczenie ludności. 0–2 p.

*gleby, poziom rozwoju przemysłu,  
surowce mineralne, migracje*

Czynniki przyrodnicze	Czynniki pozaprzyrodnicze

7. Podkreśl prawidłowe informacje w poniższych zdaniach. 0–2 p.

Rozmieszczenie ludności określamy za pomocą wskaźnika gęstości zaludnienia, wyrażonego liczbą mieszkańców przypadającą na  $100 \text{ km}^2$  /  $1 \text{ km}^2$ . W Polsce średnia gęstość zaludnienia wynosi  $213 \text{ os./}100 \text{ km}^2$  /  $123 \text{ os./}1 \text{ km}^2$ . Obszarem, na którym przypada największa liczba mieszkańców na jednostkę powierzchni, jest województwo *warmińsko-mazurskie* / *śląskie*. Z kolei najrzadziej zaludnione jest województwo *podlaskie* / *zachodniopomorskie*.

8. Na podstawie danych statystycznych przedstawionych w tabeli oblicz współczynnik przyrostu rzeczywistego w województwie podlaskim w 2015 roku. Wynik podaj w promilach. 0–3 p.

Województwo podlaskie	
Powierzchnia (tys. $\text{km}^2$ )	20,2
Liczba ludności (mln)	1,2
Urodzenia (tys.)	10,8
Zgony (tys.)	12,3
Emigranci (tys.)	12,9
Imigranci (tys.)	10,7
Ludność miejska (mln.)	0,7

Obliczenia: \_\_\_\_\_

Odpowiedź: \_\_\_\_\_

9. Zaznacz prawidłowe dokończenie zdania. 0–1 p.

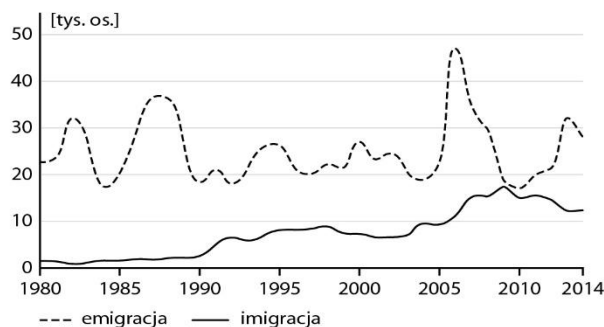
Współczynnik przyrostu rzeczywistego w województwie łódzkim wyniósł  $-3,5\%$ . Oznacza to, że

- A. na każde 100 mieszkańców przybyło 3,5 osoby.  
B. na każdy 1000 mieszkańców przybyło 3,5 osoby.  
C. na każdy 1000 mieszkańców ubyło 3,5 osoby.

10. Podkreśl właściwe informacje dotyczące struktury narodowościowej i etnicznej Polski. 0–2 p.

- A. Najlicniejszą mniejszość narodową w Polsce stanowią *Ślązacy* / Niemcy / Romowie.  
B. Ludność romska jest najlicniejszą *mniejszością etniczną* / społecznością etniczną / mniejszością narodową w Polsce.  
C. Najlicniejszą społecznością etniczną w Polsce są *Romowie* / *Ślązacy* / *Kaszubi*.

11. Przeanalizuj wykres i zaznacz zdania zawierające prawdziwe informacje. 0–2 p.



- A. W Polsce saldo migracji zewnętrznych jest ujemne.  
B. Największą różnicę między emigracją a imigracją zanotowano w 2009 roku.  
C. Obecnie dużo więcej osób wyjeżdża z Polski na stałe niż się w niej osiedla.  
D. Saldo migracji zewnętrznych wynosiło w 2014 roku około  $-10$  tys. osób.

12. Oceń prawdziwość informacji. Zaznacz P, jeśli informacja jest prawdziwa, lub F, jeśli jest fałszywa. 0–2 p.

Najwyższy poziom bezrobocia zarejestrowano w Polsce w 1983 roku.	P	F
Obecnie w usługach pracuje w naszym kraju ponad 58% zatrudnionych.	P	F
Najniższą wartością wskaźnika urbanizacji odznacza się województwo śląskie.	P	F

13. Na podstawie opisu podkreśl nazwy głównych funkcji, które pełni Rzeszów. 0–2 p.

*usługowa, handlowa, administracyjna, przemysłowa, transportowa, edukacyjno-naukowa, turystyczna, religijna*

**Rzeszów** – miasto na prawach powiatu, stolica województwa podkarpackiego. Dobrze rozwinął się w nim przemysł lotniczy, spożywczy, farmaceutyczny i IT. W Rzeszowie funkcjonują uczelnie wyższe (dwie duże oraz kilka mniejszych). Jest tam też zlokalizowane międzynarodowe lotnisko. Przez Rzeszów przebiegają ważne szlaki komunikacyjne łączące wschód i zachód Polski (m.in. autostrada A4). W mieście funkcjonują liczne centra handlowe i hipermarkety.