

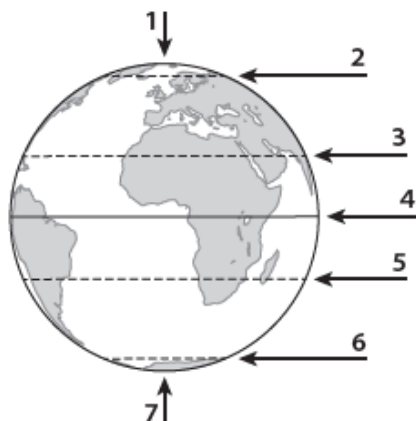
Lądy i oceany

imię i nazwisko

klasa

data

1. Na rysunku cyframi od 1 do 7 oznaczono ważne punkty oraz wybrane elementy siatki geograficznej. Rozpoznaj je na podstawie opisu. Wpisz do tabeli odpowiednie nazwy oraz cyfry, którymi te elementy zostały oznaczone na rysunku. **0–3 p.**



Opis	Nazwa linii lub punktu	Cyfra na rysunku
Najdłuższy równoleżnik. Dzieli kulę ziemską na półkulę północną i półkulę południową.		
Zwrotnik leżący na półkuli południowej.		
Miejsce, w którym oś ziemska przecina półkulę północną.		

2. Skreśl niewłaściwe wyrazy tak, aby podane informacje były prawdziwe. **0–2 p.**

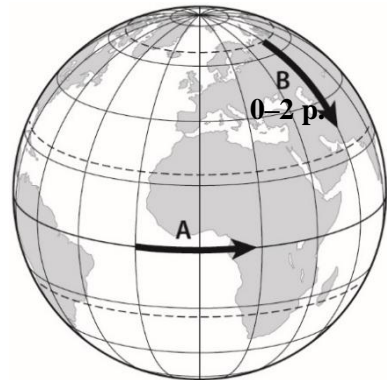
Południki to linie łączące **bieguny Ziemi** / **oś ziemską z biegunem**. W miarę oddalania się od równika długość równoleżników **maleje** / **rośnie**. Południki i równoleżniki na mapie tworzą siatkę **geograficzną** / **kartograficzną**.

3. Na rysunku strzałkami oznaczono przemieszczające się punkty A i B. Wybierz właściwe spośród podanych nazw kierunków głównych i wpisz je w odpowiednie miejsca.

▪ północ ▪ południe ▪ wschód ▪ zachód

A. Punkt A przemieszcza się na

B. Punkt B przemieszcza się na



4. Wpisz na podstawie mapy nazwy trzech kontynentów, które przecina południk zerowy (0°). **0–2 p.**



-
-
-

5. Podaj nazwy opisanych kontynentów i oceanów. Skorzystaj z zamieszczonej mapy.

0–2 p.

A. Kontynent o najmniejszej powierzchni. Leży wyłącznie na półkuli południowej (S) i półkuli wschodniej (E).

.....

B. Drugi pod względem powierzchni kontynent na Ziemi. Leży na półkulach: południowej (S), północnej (N), wschodniej (E) i zachodniej (W).

.....

C. Ocean o najmniejszej powierzchni. Leży na nim jeden z biegunów

D. Ocean, który oddziela Amerykę Południową od Afryki.

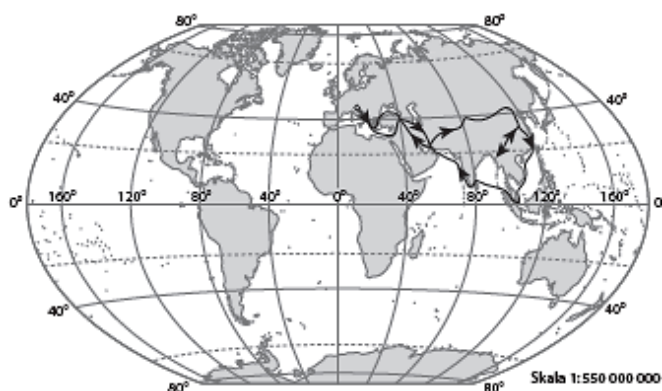


6. Dopasuj do przedstawionych na mapach tras wypraw geograficznych nazwiska odkrywców oraz obiekty geograficzne. Wybierz nazwy spośród podanych.

0–6 p.

Odkrywcy ■ *Ferdynand Magellan* ■ *Marco Polo* ■ *James Cook*

Obiekty geograficzne ■ *Nowa Zelandia* ■ *południowe krańce Ameryki Południowej* ■ *góry Pami*

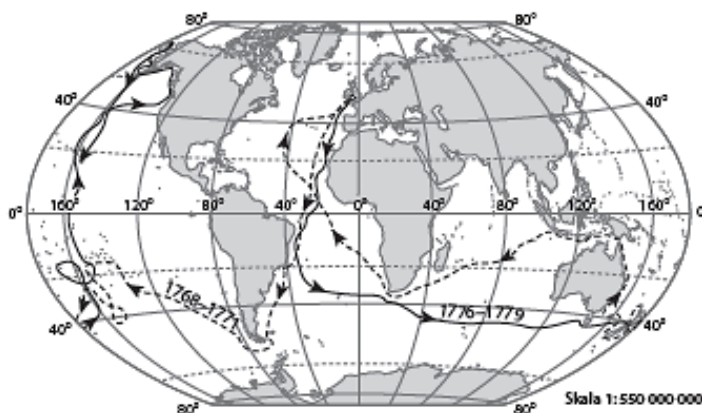


A. Odkrywca:

Obiekt geograficzny:

B. Odkrywca:

Obiekt geograficzny:



C. Odkrywca:

Obiekt geograficzny: